

Klasa 4b

Lekcja nr 12 – 20.04.2020 r.

Temat: Ułamek jako część całości.

1. Obejrzyj film. Z filmu dowiesz się co to jest ułamek i jak go zapisujemy.

<https://youtu.be/FKwCQ7c3SPQ>

2. Wytnij, wklej do zeszytu i zapamiętaj!



Mianownik ułamka informuje nas o tym, na ile równych części dokonano podziału, a licznik mówi o tym, ile tych części nas interesuje (czyli czasem zamalowano, zjedzono)

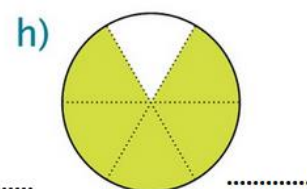

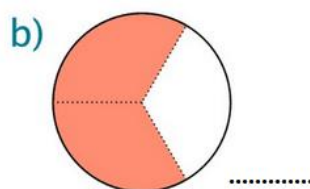
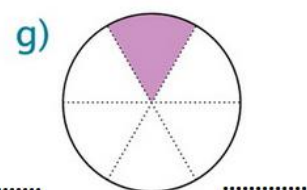


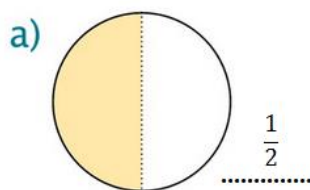
3. Liczby $\frac{1}{2}$, $\frac{5}{8}$, $\frac{3}{4}$ to przykłady ułamków.

$\frac{1}{2}$ – czytamy *jedna druga*

$\frac{5}{8}$ – czytamy *pięć ósmych*

$\frac{3}{4}$ – czytamy *trzy czwarte*

Zadanie 1. Wytnij i wklej do zeszytu poniższe ćwiczenie. Obok każdego rysunku zapisz jaki ułamek (jaką część) figury zamalowano. Przeczytaj głośno każdy zapisany ułamek.



4. W zeszycie ćwiczeń wykonaj ćwiczenia 1, 2, 3, 4, 5, 6 str. 56 i 57.

Powodzenia!