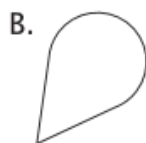


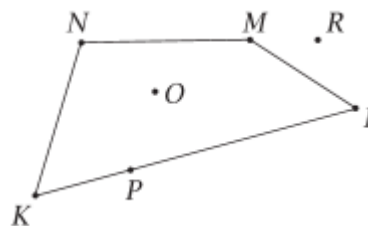
Temat: Utrwalenie wiadomości o wielokątach.

Zad. 1 Wielokątem jest figura:



Zad. 2 Który z zaznaczonych punktów nie należy do czworokąta KLMN?

- A. K B. O C. R D. P

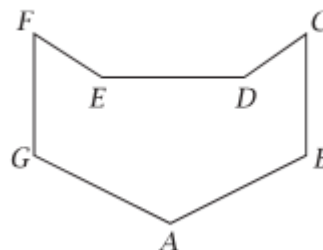


Zad. 3 Wypisz wszystkie wierzchołki i boki narysowanego wielokąta, oraz uzupełnij zdanie.

Wierzchołki:

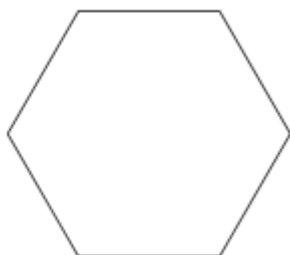
Boki:

Narysowany wielokąt to



Zad. 4 Narysuj czworokąt, który ma parę boków prostopadłych oraz przynajmniej jeden kąt ostry.

Zad. 5 Na podstawie rysunku wielokąta oceń prawdziwość zdań. Wstaw znak **X** w odpowiednią kratkę.



Wszystkie kąty wielokąta są rozwarte.

prawda fałsz

Wielokąt ma pięć wierzchołków.

prawda fałsz

Wszystkie boki mają taką samą długość.

prawda fałsz

Narysowany wielokąt to sześciokąt.

prawda fałsz

