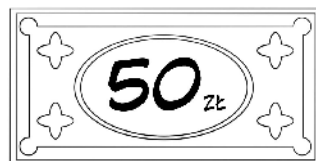


Zakupy w supermarkecie

Mama zrobiła zakupy w supermarkecie w poniedziałek, w środę i w piątek. Za każdym razem dawała kasjerce banknot o wartości 50 zł. Spójrz na rachunki z tych trzech dni i oblicz, ile reszty za każdym razem kasjerka wydała mamie.

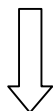


PONIEDZIAŁEK



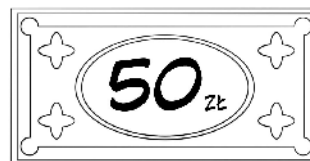
RACHUNEK

RAZEM:
37 zł



RESZTA:

ŚRODA



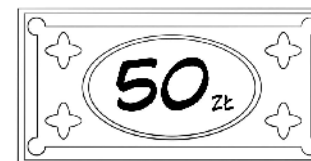
RACHUNEK

RAZEM:
25 zł



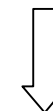
RESZTA:

PIĄTEK



RACHUNEK

RAZEM:
48 zł



RESZTA: