

Zadania do wykonania 11.05.2020r

Temat: Przyroda wokół nas.

1. Przeczytaj uważnie informacje o nietoperzach str. 14 – 15 oraz wiersz „Tylko raz” i „Po co zrywać” str. 16.

2. W zeszyte zapisz temat i datę. Pod tematem zapisz:

Nietoperze to jedyne skrzydlate ssaki. Na świecie jest ich około 1000 gatunków. Są to zwierzęta aktywne nocą. Dzięki **echolokacji** bez trudu poruszają się nocą. Zamieszkują jaskinie, strychy lub opuszczone domy. Zapadają w stan **hibernacji**, czyli zimowy sen. Żywią się przeważnie owadami. W Polsce występują: **nocek duży** i **gacek wielkouch**. Są pod ochroną.



Nocek duży



Gacek wielkouch

Zapamiętaj, że wszystkie rośliny oraz zwierzęta pragną żyć tak jak i my.

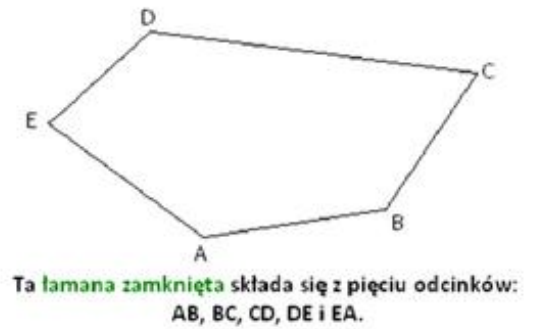
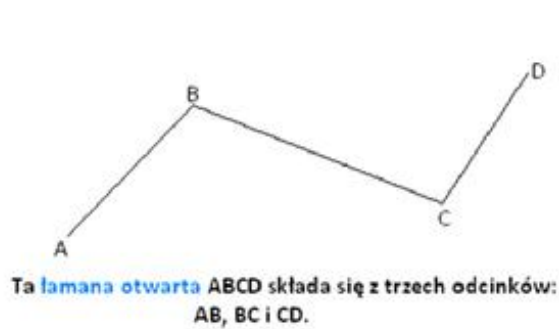
3. W ćwiczeniach wykonaj ćw. 1, 2 str. 76 oraz ćw. 1 str. 77

4. Teraz powinieneś trochę poćwiczyć. Proponuję Ci lekcję w-f, link poniżej.

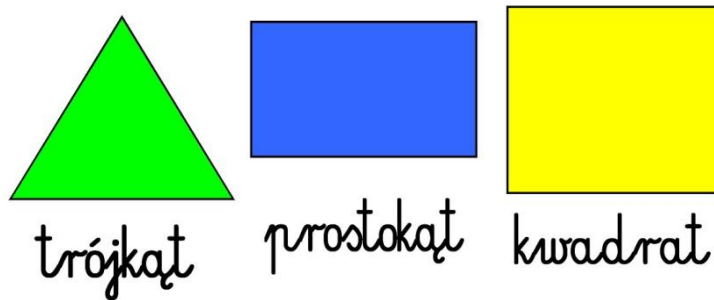
<https://www.youtube.com/watch?v=iJdgErtfSzo>

5. W zeszyte do matematyki zapisz kolejną lekcję i datę. Następnie zapisz: **Linia łamana otwarta** – składa się z kilku odcinków. Ma początek i koniec.

Linia łamana zamknięta – tworzą niektóre figury geometryczne np. nie mają początku i końca.



Żeby obliczyć długość łamanej wystarczy dodać długości odcinków, z których składa się dana łamana. Dodając odcinki linii łamanych zamkniętych obliczamy obwody figur.



Linie łamane zamknięte wyznaczają obwody tych figur.

6. Teraz wykonaj w ćwiczeniach matematycznych ćw. 1 str. 67 oraz ćw. 1 i 2 str. 68.

Czy Ty też lubisz fotografować przyrodę?



Powodzenia 😊