

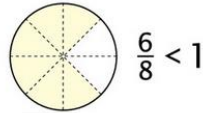
**Temat: Ułamki niewłaściwe.**

1. Obejrzyj film. Z filmu dowiesz się czym różni się ułamek właściwy od ułamka niewłaściwego.

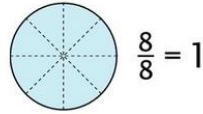
[https://youtu.be/D\\_jXNwkXcGg](https://youtu.be/D_jXNwkXcGg)

2. Wytnij, wklej do zeszytu i zapamiętaj!

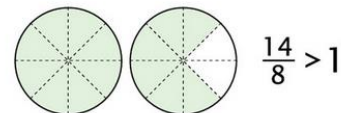
Gdy licznik jest mniejszy od mianownika, to ułamek jest liczbą mniejszą od 1.



Gdy licznik jest równy mianownikowi, to ułamek jest równy 1.



Gdy licznik jest większy od mianownika, to ułamek jest liczbą większą od 1.

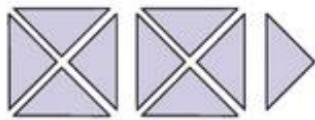


**3. Uwaga !**

Liczby  $\frac{6}{8}, \frac{1}{2}, \frac{4}{9}, \frac{3}{11}$  (mniejsze od 1) to przykłady ułamków właściwych.

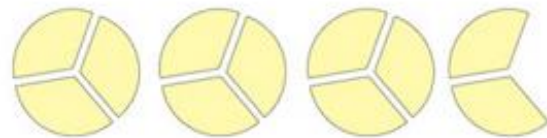
Liczby  $\frac{8}{8}, \frac{14}{8}, \frac{11}{3}, \frac{9}{4}$  (równe lub większe od 1) to przykłady ułamków niewłaściwych.

Każdy ułamek niewłaściwy można zapisać w postaci liczby mieszanej.



$$\frac{9}{4} = 2\frac{1}{4}$$

ułamek niewłaściwy      liczba mieszana



$$\frac{11}{3} = 3\frac{2}{3}$$

ułamek niewłaściwy      liczba mieszana

4. W zeszyte rozwiąż zadanie 1 str. 158 oraz 3 str. 159 - podręcznik.

5. W zeszyce ćwiczeń rozwiąż zadanie 1, 2 str. 66.