

Klasa 4b

Lekcja nr 14 – 21.04.2020 r.

Temat: Liczby mieszane.

1. Obejrzyj pierwszą część filmu (6:05). Z filmu dowiesz się co to są liczby mieszane, jak je zapisujemy i czytamy.

<https://youtu.be/Z8Tc536A7Rk>

2. Wytnij, wklej do zeszyt i zapamiętaj!

ZAPAMIĘTAJ

Zamalowano 2 kwadraty i jeszcze $\frac{3}{4}$ kwadratu.

$2\frac{3}{4}$

Czytamy: dwa i trzy czwarte

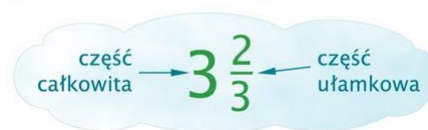
Zamalowano 3 prostokąty i jeszcze $\frac{5}{9}$ prostokąta.

$3\frac{5}{9}$

Czytamy: trzy i pięć dziewiątych

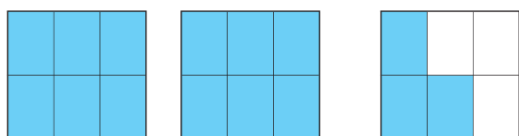
Liczby $2\frac{3}{4}$, $3\frac{5}{9}$ to przykłady liczb mieszanych.

W liczbie mieszanej wyróżniamy część całkowitą i część ułamkową.

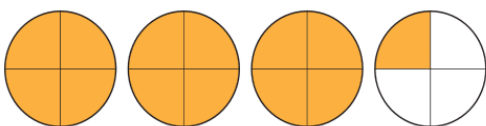


Ćwiczenie Pod każdym rysunkiem wpisz odpowiednie liczby mieszane. Zpisz je również słownie.

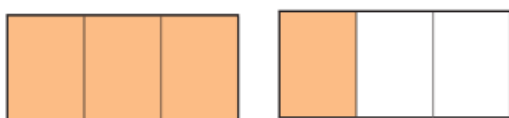
a)



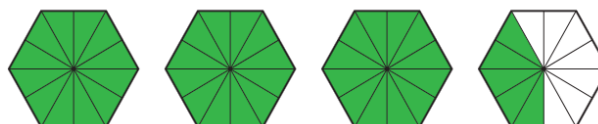
b)



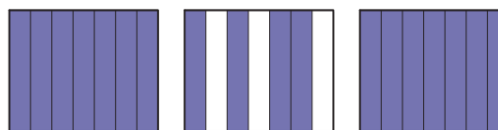
c)



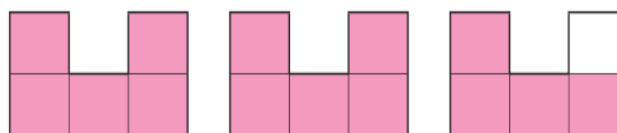
d)



e)



f)



3. Wykonaj w zeszyt ćwiczeń zadania 1, 2, 3 str. 59.

Pamiętaj! pół (połowa) to ułamek $\frac{1}{2}$
ćwierć to ułamek $\frac{1}{4}$

