

## Klasa 5c

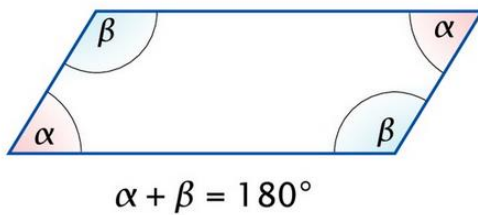
### Lekcja nr 1 – 25.03.2020 r.

**Temat:** *Miary kątów w równoległobokach.*

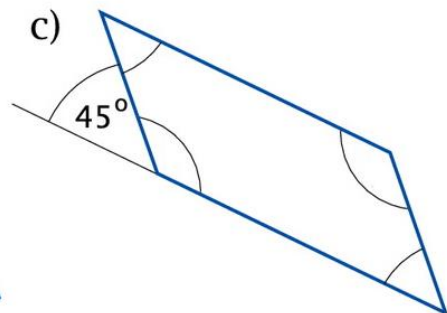
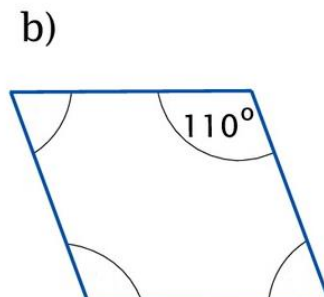
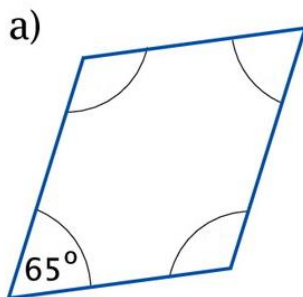
1. Zapisz temat lekcji w zeszyte przedmiotowym.
2. Obejrzyj film. Z tej lekcji dowiesz się jakie są zależności między kątami w równoległobok.

<https://youtu.be/DhYhMaJsKTY>

3. Wytnij i wklej do zeszytu poniższy rysunek.



4. Na podstawie filmu wykonaj w zeszyte do matematyki zadanie 1 str. 130. Możesz to zrobić wykorzystując poniższe rysunki - uzupełnij je, wytnij i wklej do zeszytu.



### Uwaga !

W podpunkcie c zwróć uwagę na to, że podany jest kąt przyległy do jednego z kątów wewnętrznych.

5. Wykonaj zadanie 1 i 2 str. 68 w zeszyte ćwiczeń.

**Powodzenia !**