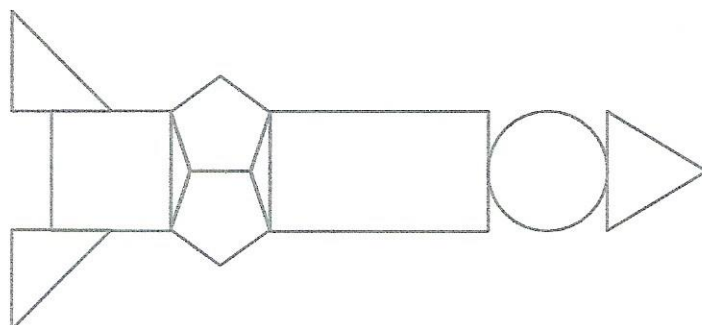


Karta pracy nr 85

1. Pokoloruj raketę według instrukcji. Jak się nazywają pozostałe figury?

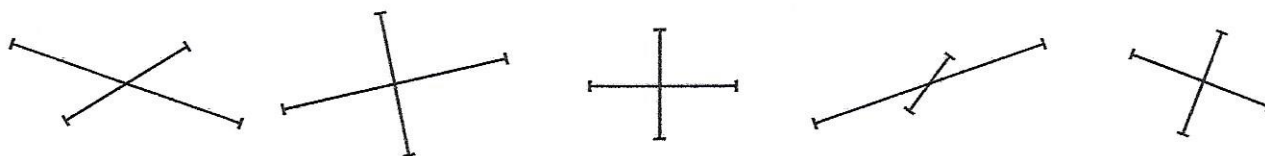


- pomarańczowy
- czerwony
- zielony
- niebieski


2. Narysuj proste równoległe do podanych. Nazwij je, używając małych liter.



3. Zaznacz kolorem odcinki prostopadłe.



4. Ile wynosi obwód kwadratu o boku równym 5 cm? Narysuj ten kwadrat.



Odp.:
